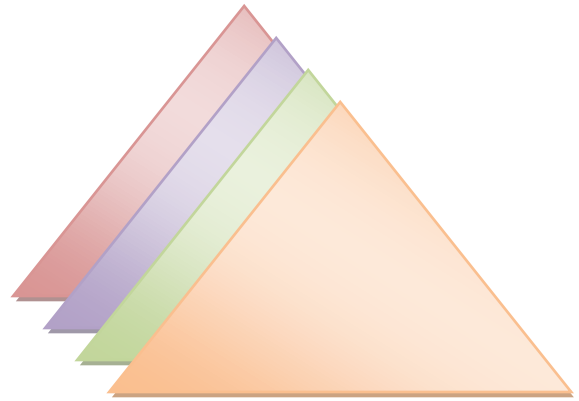


18

Cuatro triángulos numéricos

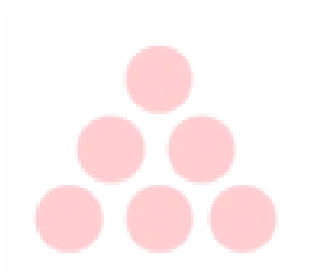


*Escribe en los círculos del primer triángulo todos los números del 1 al 6, de manera que todos los lados del triángulo sumen **9**.*

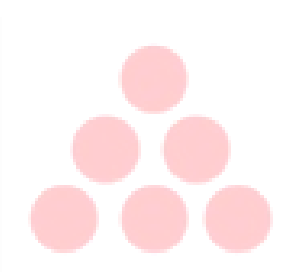
¿Ha sido fácil?

*Vuelve a intentarlo otras tres veces para que los lados del triángulo sumen **10**, **11** y **12**.*

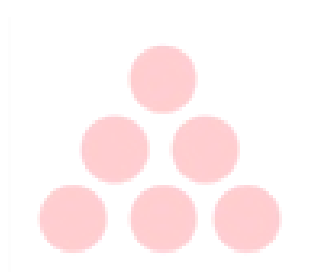
¡¡¡Ánimo!!!



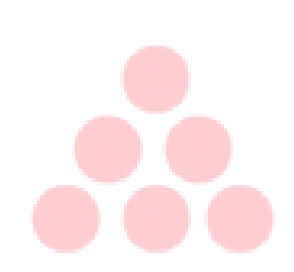
9



10



11



12